

AD SOYAD:

SINIF, NO:



# MASTERZEKA



## Bilsem Aday Belirleme Sınavı

**BİLSEM**  
**HAZIRLIK SETİ**


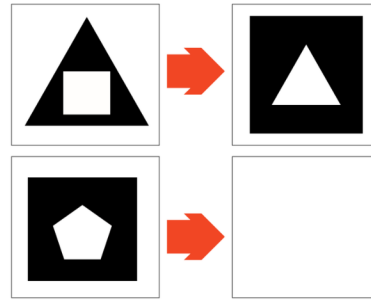
**Trendyol**  
**Sipariş**



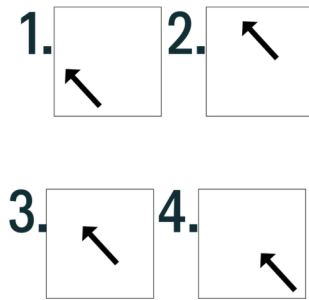

1. Kırık camın parçaları hangi seçenektir?




2. Boş kutuya hangi şekil gelmelidir?



3. Soru işareti yerine hangisi gelmelidir?

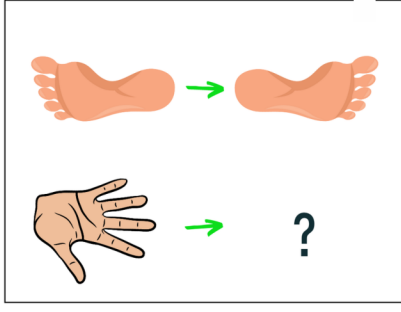


4. Görselin verilmeyen parçası hangisidir?



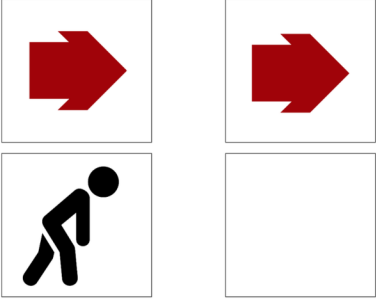
# BİLSEM ADAY BELİRLEME SINAVI

5. Soru işareti yerine hangie şekil gelmelidir?




- 1.
- 2.
- 3.
- 4.

6. Boş kutuya hangi şekil gelmelidir?




- 1.
- 2.
- 3.
- 4.

7. Soru işaretinin yerine hangi şekil gelmelidir?



- 1.
- 2.
- 3.
- 4.

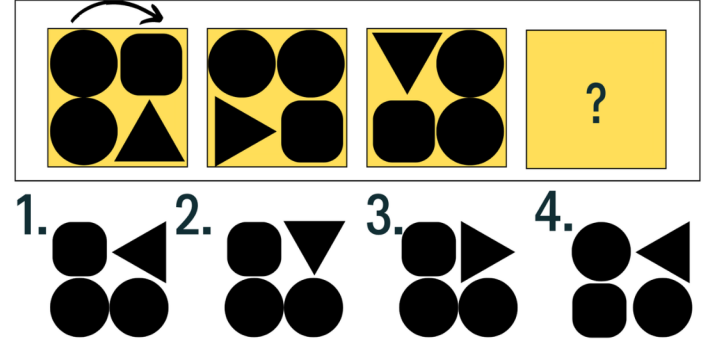
8. Parçaları verilmiş görselin tamamlanmış hâli hangi seçenekte doğru sıralanmıştır?



1. ABCDE
2. DEACB


3. BDACE
4. EBCDA

9. Soru işareti yerine hangi şekil gelmelidir?



- 1.
- 2.
- 3.
- 4.

10. Soldaki şekli tamamlayan parça hangisidir?

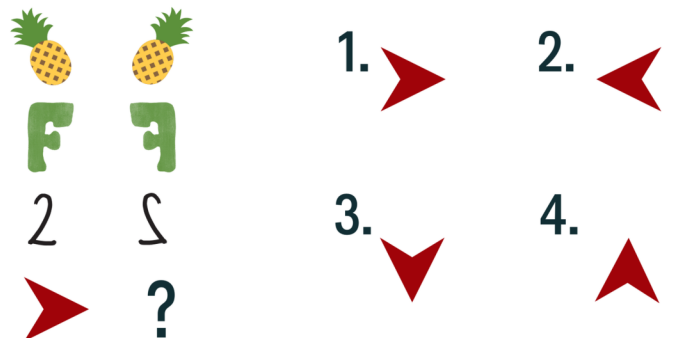


- 1.
- 2.
- 3.
- 4.

**İndirimli toplu sipariş:**  
**0531 568 94 42**

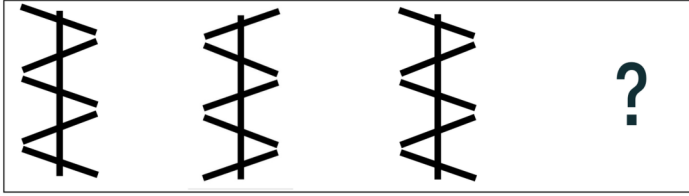


11. Soru işareti yerine hangisi gelmelidir?




- 1.
- 2.
- 3.
- 4.


12. Dördüncü şekil seçeneklerden hangisi olmalıdır?



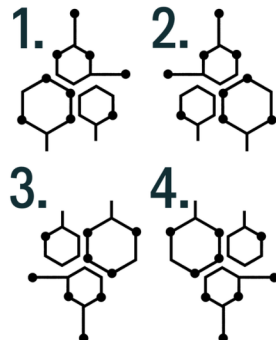
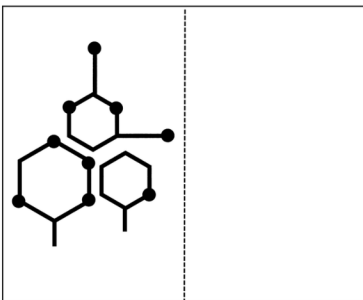
13. Verilem görselle ilişkili olan seçenek hangisidir?



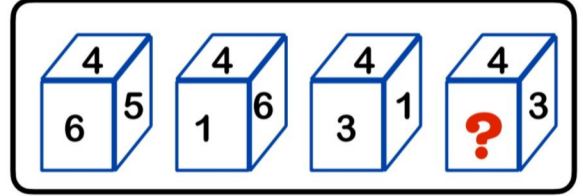
14. Seçeneklerden hangisi verilen görselin gölgesi değildir?



15. Verilen şeklin sağ tarafa yansıması seçeneklerden hangisidir?



16. Soru işareti yerine hangi sayı gelmelidir?

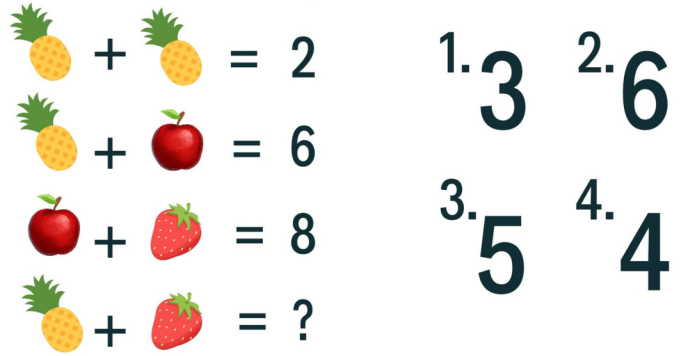


İndirimli toplu sipariş:


0531 568 94 42



17. Soru isareti yerine kaç gelmelidir?



18. Şifrelenmiş kelime aşağıdakilerden hangisi olamaz?



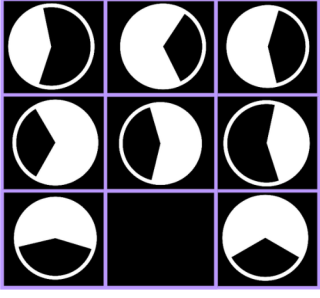
1. Ahali

3. Tatlı

2. Atari

4. Ovalı

19. Boş kutuya hangi şekil gelmelidir?

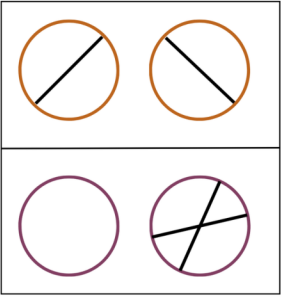


- 1.
- 2.
- 3.
- 4.

**İndirimli toplu sipariş:**  
**0531 568 94 42**




20. Boş kutuya hangi çizgiler gelmelidir?



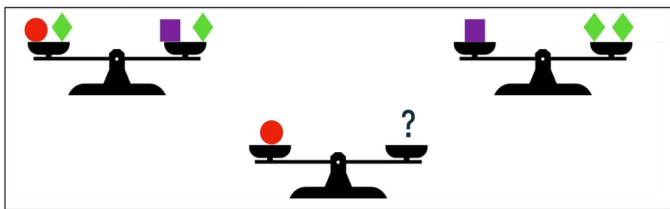
- 1.
- 2.
- 3.
- 4.

21. Görselin verilmeyen parçası hangisidir?



- 1.
- 2.
- 3.
- 4.

22. Soru işareti yerine seçeneklerden hangisi gelir?



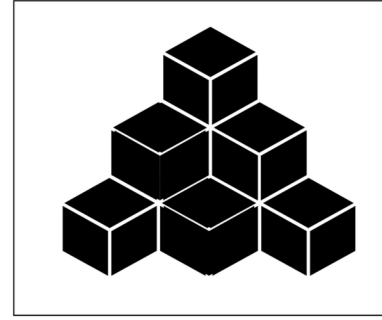
- 1.
- 2.
- 3.
- 4.

23. Verilen şeklin eşi hangi seçenektir ?



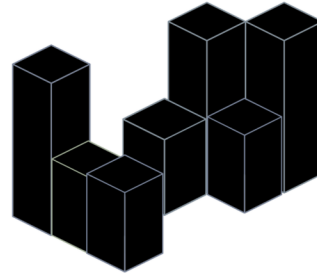
- 1.
- 2.
- 3.
- 4.

24. Verilen şekilde görülmeyen kaç küp vardır?




- 1.
- 2.
- 3.
- 4.

25. Verilen şeklin üstten görüşünü hangi seçenektir?




- 1.
- 2.
- 3.
- 4.

26. Soru işareti yerine hangi resim gelmelidir?




- 1.
- 2.
- 3.
- 4.

27. Verilen şekil kaç birim küpten oluşmuştur?




1. 12
2. 11
3. 10
4. 9

29. Dördüncü adımda hangi şekil olmalıdır ?



- 1.
- 2.
- 3.
- 4.

28. Soru işareti yerine hangi şekil gelmelidir?



- 1.
- 2.
- 3.
- 4.

30. 'Masa' kelimesini yazabilmek için hangi şekilleri kullanmalıyız ?

★ ● → TAS  
★ ● → TAM  
MASA= ?

- 1.
- 2.
- 3.
- 4.

**İndirimli toplu sipariş: 0531 568 94 42**

## ZEKA GELİŞİMİ DERSLERİ BAŞLIYOR

Üç aylık eğitim

Zoomdan 24 canlı ders (yaklaşık 500 soru)

Uygulama üzerinden 24 quiz (480 soru)

Uygulama üzerinden 12 deneme (480 soru)

Zoomdan 5 canlı deneme sınavı (250 soru)

Ödevlendirme (MasterZeka kitaplarından)

Zeka Gelişimi Dersleri  
**MASTERZEKA KAZANDIRIR**

